

Doğa ve Çevremiz



Çevremize baktığımızda canlı varlıkları ve cansız varlıkları görürüz.

Canlı Varlıklar: İnsanlar, hayvanlar ve bitkiler canlı varlıklardır. Canlılar hareket ederler, beslenirler, büyürler, gelişirler ve ölürler.

Cansız Varlıklar: Çevremizde gördüğümüz binalar, taşıtlar, eşyalar cansız varlıklardır. Bu tür cansız varlıkları insanlar yapar.

Doğal Varlıklar: Doğada kendiliğinden var olan dağ, göl, akarsu, toprak, taş, orman, şelale, deniz gibi doğal varlıklar bulunur.

Bütün canlılar yaşayabilmek için doğada bulunan herşeye muhtaçtır. İnsanlar doğadaki canlı ve cansız varlıkları korumalıdır.

Etkinlik-1

Çevremizde gördüğünüz varlıkları yazınız.

BİTKİLER	HAYVANLAR	CANSIZ VARLIKLAR

Etkinlik-2

Evcil hayvanlar nelerdir? Yazınız.

1	2	3	4
5	6	7	8






Etkinlik-3

Hayvanlarla yuvalarını eşleştiriniz. Yuvalarını yazınız.



Etkinlik-4

Hayvanların beslenme türlerini eşleştiriniz.



Etkinlik-5

Hayvanları özelliklerine göre yazınız.

Uçabilen	Suda Yaşayan	Sürünge	Böcek	Vahşi

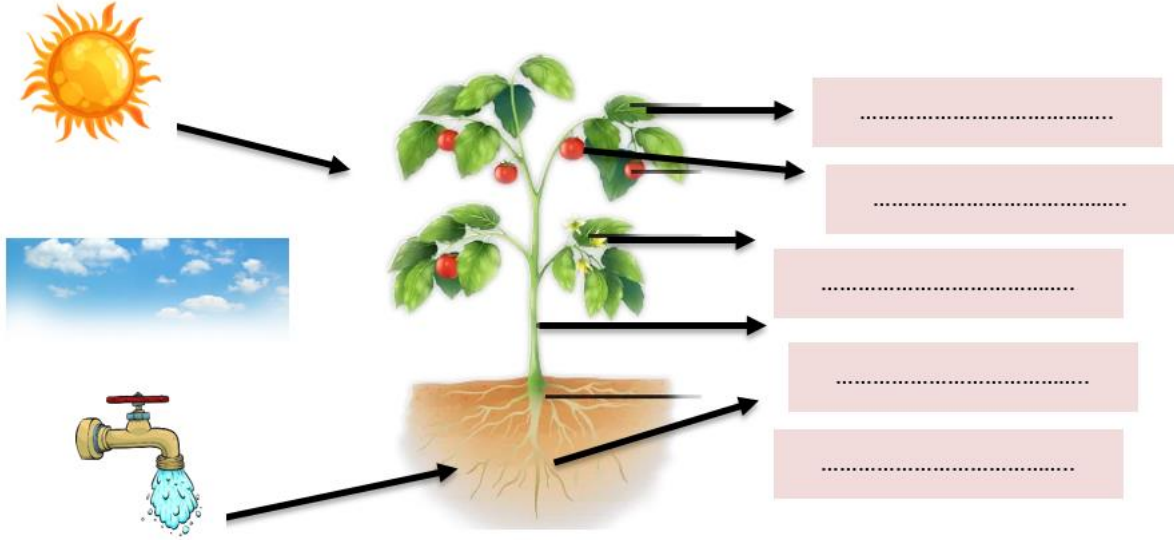
Etkinlik-6

Aşağıdaki görselde bildiğiniz hayvanların isimlerini yazınız.

**A**.....**S**.....**F**.....**F**.....**Ö**.....**S**.....**K**.....**K**.....**Y**.....**T**.....**K**.....**Z**.....**Z**.....**A**.....**i**.....**M**.....**D**.....**G**.....**P**.....**Y**.....**G**.....**A**.....**S**.....**K**.....


Etkinlik-7

Bir bitkinin bölümlerini yazınız.



Etkinlik-8

Bir bitkinin büyüme aşamalarını sıralayarak anlatınız.




Etkinlik-9

Bitki türlerine örnekler yazınız.

Çiçekler	Ağaçlar	Bahçe Bitkisi	Yabani Bitkiler

Etkinlik-10

Doğayı korumak için neler yapmalıyız?



1

2

3

4

5

Etkinlik-11

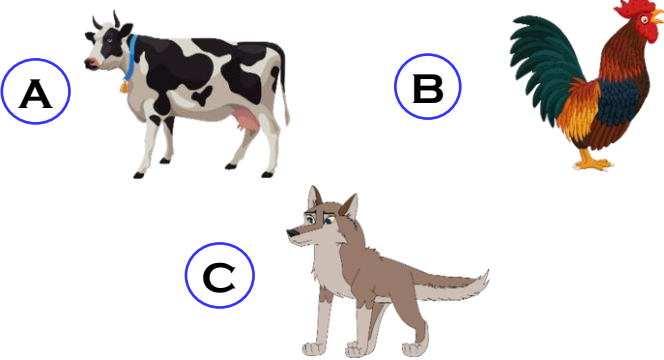
Doğru mu? Yanlış mı?

- ☐ D ☐ Y Bitkiler ve hayvanlar canlı varlıklardır.
- ☐ D ☐ Y Her hayvanın kendisini koruyabileceği yuvası vardır.
- ☐ D ☐ Y Bütün hayvanlar ot yiyerek beslenirler.
- ☐ D ☐ Y Hava, su ve güneş tüm canlılar için zorunludur.
- ☐ D ☐ Y Bitkiler de hayvanlar gibi hareket edebilirler.
- ☐ D ☐ Y Binalar, taşlar, toprak, taşıtlar cansız varlıklardır.
- ☐ D ☐ Y Çevremizdeki bitki ve hayvanlara zarar vermemeliyiz.
- ☐ D ☐ Y Hayvanların insanlara hiç bir faydası yoktur.

1-) Aşağıdakilerden hangisinde hayvanlar ve yuvası **yanlış** eşleştirilmiştir?

- (A) Arı \longleftrightarrow kovan
 (B) Tavuk \longleftrightarrow ahır
 (C) Köpek \longleftrightarrow kulübe

2-) Aşağıdakilerden hangisi evcil hayvan **değildir**?



1-Yılan = Sürüngen
 2-Timsah = Vahşi
 3-Koyun = Evcil

3-) Yukarıda hayvanlar ve özellikleri eşleştirilmiştir. Hangileri doğru eşleştirilmiştir?


- (A) 1-2 (B) 1-2-3 (C) 1-3



4-) Yukarıdaki görseli verilen yuvada hangi hayvanlar barınabilir?


- (A) Ayı – İnek – Tilki
 (B) Kurt – Tilki – Ayı
 (C) Yarasa – Tavşan – Köstebek

5-) Aşağıdaki hayvanlardan hangisi yaşadığı yere göre diğerlerinden **farklıdır**?



6-) Aşağıda verilen hayvanlardan hangisindikilerin hepsi otçul (sadece bitki yiyerek beslenen) hayvandır?

- (A) At – Keçi – İnek
 (B) Köpek – Ördek – Aslan
 (C) Fil – Tavşan – Kurt



7-) Yukarıda görseli verilen hayvanların ortak özelliği hangisidir?

- (A) Hepsi zehirlidir.
- (B) Hepsi sürüngendir.
- (C) Hepsi otçuldur.

Kanatları var uçar,
Rengi içimizi açar.
Ona doğru yaklaşırsan,
Hemen kanat açıp kaçar.

8-) Yukarıda görseli verilen hayvanların ortak özelliği hangisidir?

- (A) Kelebek
- (B) Uğurböceği
- (C) Ördek

9-) Aşağıdakilerden hangisi bütün hayvanların yaşayabilmesi için tüketmesi gereken besindir?




10-) Aşağıda verilenlerden hangisinin hepsi doğrudur?

Evcil	Vahşi
Koyun	Köpek
Fil	Kedi
Keçi	Ayı

11-) Aşağıdaki hangisi hem suda hem de karada yaşayabilen hayvanlardan değildir?


- (A) Ördek
- (B) Tavşan
- (C) Kurbağa



12-) Görseldeki hayvan için aşağıdakilerden hangisi söylenemez?

- (A) Evcil hayvandır.
- (B) Kümeste barınan bir hayvandır.
- (C) Otçul hayvandır.

13-) Aşağıdakilerden hangisi canlı değildir?



14-) Aşağıdakilerden hangisinde bahçe bitkileri birlikte yazılmıştır?

- A Çilek – Domates – Ağaç
- B Biber – Buğday – Gül
- C Mantar – Kaktüs – Patates



15-) Bitkilerin yaşayabilmesi için yukarıdakilerden hangileri zorunludur?

- A Güneş ve ekmek
- B Su ve ekmek
- C Su ve Güneş

İlkbahar: Ağaçlar çiçek açar.

Yaz: Ağaçlar meyve verir.

Sonbahar: Ağaçlar

Kış: Ağaçlar yapraksız kalır.

16-) Yukarıda verilen bilgilere göre boşluğa hangisi yazılmalıdır?

- A yapraklarını dökmeye başlar.
- B kökleri kurumaya başlar.
- C dalları kırılır.

Bazı yabancı bitkiler bize zarar verirler. Bu nedenle yabancı bitkilere dokunmak, ağızımıza sürmek tehlikelidir.

17-) Yukarıda verilen bilgiye göre hangi bitkiye dokunmak tehlikelidir?

- A Kaktüs
- B Soğan
- C Sarımsak

18-) Aşağıdaki bitkilerden hangisi saksıda yetiştirilmez?

- A Gül
- B Marul
- C Karpuz

Bu kazanım için öngörülen süre 6 ders saatidir.

Yapılabilecek etkinlikler.

- 1.Bitki yaprakları toplanıp koleksiyon ya da albüm yapılabilir.
- 2-Evcil hayvanlarla foto ya da video çekimi yaptırılabilir
- 3-Çevremizdeki hayvan barınaklarına ziyaret edilebilir.
- 4-Hayvanat bahçesi ya da piknik alanı ziyaret edilebilir.



www.mustafakabul.com

**Sitemdeki Google Reklamlarını tıklayarak destek olursanız
sevinirim.**

Sitemdeki etkinlikler özgün çalışmalar olup ticari amaçla kullanılamaz. İsim ve logo kaldırılarak internet ortamında ve sosyal medyada paylaşılamaz. Her çalışma için emek ve zaman harcadığımı unutmayalım.

